


Федеральное агентство по образованию
Центральный оргкомитет Всероссийских олимпиад

XXXIX Всероссийская олимпиада школьников по физике

Районно-городской этап

Теоретический тур

Методическое пособие



МФТИ, 2004/2005 уч.г.

Комплект задач подготовлен методической комиссией по физике
Центрального оргкомитета Всероссийских олимпиад школьников
Министерства образования и науки Российской Федерации
Телефоны: (095) 408-80-77, 408-86-95.
E-mail: fizolimp@mail.ru (с припиской **antispam** к теме письма)

Авторы задач

8 класс

1. Фольклор
2. Фольклор
3. Александров Д.
4. Кармазин С.

10 класс

1. Слободянин В.
2. Тихомирова С.
3. Балк М.
4. Васильев М.
5. Прут Э.

9 класс

1. Фольклор
2. Слободянин В.
3. Русаков А.
4. Кирьяков Б.

11 класс

1. Фольклор
2. Миронов А.
3. Фольклор
4. Орлов В.
5. Дрябкин В.

Общая редакция — Слободянин В., Чудновский А., Самокотин А.

Оформление и верстка — Чудновский А., Самокотин А., Имакаев М.,
Перунов Н.

При подготовке оригинал-макета
использовалась издательская система \LaTeX 2 ϵ .
© Авторский коллектив
Подписано в печать 14 марта 2005 г. в 22:43.

141700, Московская область, г.Долгопрудный
Московский физико-технический институт

8 класс

Задача 1. Кто скорее?

По реке, скорость которой постоянна, плыл плот. Когда он оказался посередине между пристанями M и N , от них навстречу друг другу отплыли два одинаковых катера (m и n), двигатели которых работали на полную мощность (рис. 1). Какой из катеров раньше достиг плота?

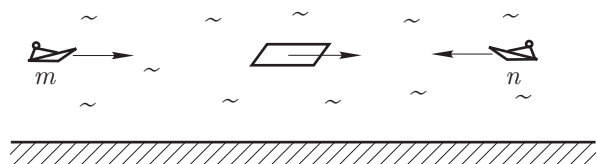


Рис. 1

Задача 2. Шайба в мерном цилиндре.

Стекланный цилиндр с нанесенной на его боковую поверхность миллиметровой шкалой, служащей для определения уровня налитой жидкости, заполнен водой до отметки в 200 мм. Площадь зеркала воды в сосуде $S = 500 \text{ см}^2$. В цилиндр опустили деревянную шайбу толщиной $H = 50 \text{ мм}$ и площадью основания $s = 100 \text{ см}^2$ (рис. 2). Плотность дерева $\rho = 0,8 \text{ г/см}^3$, плотность воды $\rho_0 = 1,0 \text{ г/см}^3$. Вычислите, на сколько миллиметров основание шайбы опустится ниже отметки в 200 мм (исходного уровня воды)?

Задача 3. Композитный стержень

Композитный стержень (рис. 3) составлен из трех кусков одинаковых размеров, плотности которых $\rho_1 = 7,3 \text{ г/см}^3$, $\rho_2 = 1,8 \text{ г/см}^3$, $\rho_3 = 8,9 \text{ г/см}^3$, а удельные теплоемкости $c_1 = 230 \text{ Дж/(кг}\cdot\text{°C)}$, $c_2 = 1300 \text{ Дж/(кг}\cdot\text{°C)}$, $c_3 = 460 \text{ Дж/(кг}\cdot\text{°C)}$. Определите среднюю удельную теплоемкость композитного стержня.

Задача 4. Кирпичная конструкция

Кирпичная конструкция, составленная из шести кирпичей, покоится на земле (рис. 4). Определите отношение давлений p_1 и p_2 , которые оказывают нижний левый и нижний правый кирпичи на землю. Кирпич представляет собой параллелепипед, стороны которого относятся как 1:2:4.

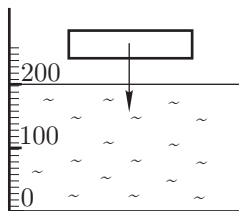


Рис. 2

ρ_1	ρ_2	ρ_3
c_1	c_2	c_3

Рис. 3

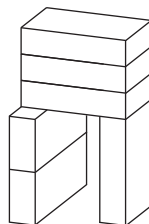


Рис. 4

9 класс

Задача 1. Полет спутника

По низкой круговой орбите вокруг Земли летит спутник. В момент времени t_0 он оказался в точке A . На какое расстояние h от касательной, проведенной к траектории спутника в точке A (рис. 5), он удалился за время $\tau = 20 \text{ с}$?

Примечание. Радиус Земли $R = 6400 \text{ км}$, ускорение свободного падения $g \approx 10 \text{ м/с}^2$.

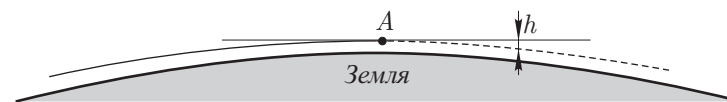


Рис. 5

Задача 2. «Улитка» сил

На материальную точку массой $m = 140 \text{ кг}$ действуют силы, расположенные в одной плоскости. Величины этих сил указаны у концов соответствующих векторов (рис. 6). Угол между каждой парой соседних сил равен 30° . С каким ускорением a , будет двигаться материальная точка? Найдите угол α между равнодействующей и силой величиной 360 Н.

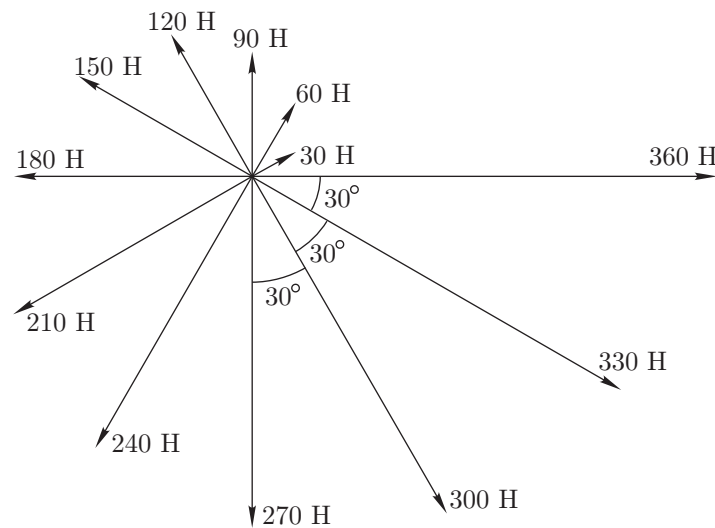


Рис. 6

Задача 3. Леопольд и мыши

Кот Леопольд едет по Большой дороге на самокате со скоростью $v_1 = 12$ км/ч. Как только он появился на площади Согласия и Примирения, его увидели два хитрых мышонка, которые тотчас пустились на перехват на велосипеде со скоростью $v_2 = 13$ км/ч. Известно, что в момент появления кота мыши находились от него на расстоянии $L = 100$ м (рис. 7) и затратили на погоню минимально возможное время t . Вычислите это время.

Задача 4. Изогнутая стрелка

Из пяти одинаковых вольтметров собрана цепь (рис. 8). Показания вольтметров составляют: $U_1 = 5$ В, $U_2 = 4$ В, $U_3 = 2$ В, $U_4 = 1$ В, $U_5 = 1$ В. Известно, что у одного из вольтметров согнута стрелка и его показания неверны. Укажите, какой из вольтметров неисправен. Чему равно истинное напряжение на этом вольтметре?

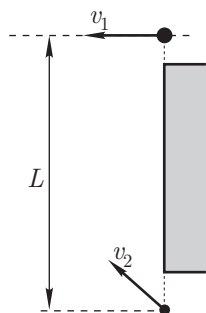


Рис. 7

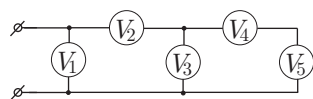


Рис. 8

10 класс

Задача 1. Патрульный катер

По реке, скорость течения которой постоянна, на плоту плыли туристы. Когда они оказались на расстоянии L от стоящего в засаде патрульного катера, тот поплыл им навстречу. Поравнявшись с плотом, патрульные быстро убедились, что туристы ничего предосудительного не делают, и поплыли обратно со скоростью v относительно берега (рис. 9). Двигатели катера все время работали на полную мощность. Сколько времени прошло от старта катера до его возвращения в засаду?

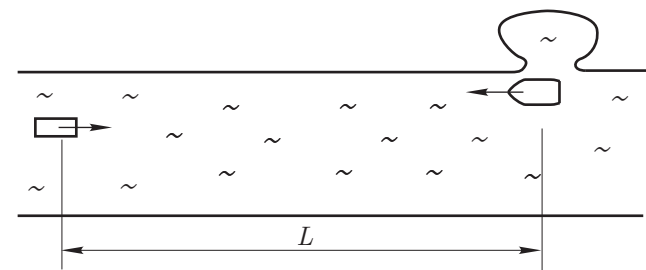


Рис. 9

Задача 2. Ускорение тележки

К массивной тележке, стоящей на горизонтальном столе, прикреплена легкая нерастяжимая нить, перекинутая через блок. К свободному концу нити привязали груз массой m и освободили систему (рис. 10). При этом тележка покатилась без трения с ускорением a_1 . С каким ускорением a_2 покатится тележка, если к нити прикрепить груз массой $2m$ (рис. 11)?

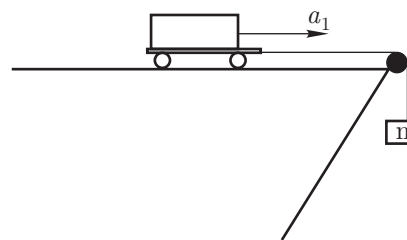


Рис. 10

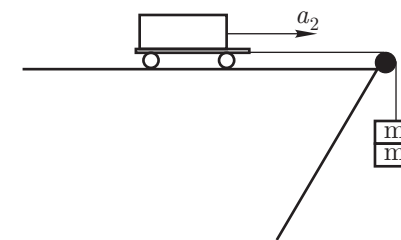


Рис. 11

Задача 3. Равновесие треугольника

Три легкие спицы разной длины соединили между собой. К вершинам A , B и C получившегося треугольника прикрепили маленькие шарики m_A , m_B , m_C . Вычислите массу M всей конструкции, если известно, что ее центр масс находится в точке O , лежащей на пересечении отрезков CD и AE (рис. 12). Точка D делит спицу AB в отношении 1:2, а точка E — спицу BC в отношении 3:4. Масса шарика $m_A = 40$ г.

Задача 4. Токи в кольце

Разветвленная электрическая цепь состоит из трех аккумуляторов и шести резисторов (рис. 13). Напряжение на выводах аккумуляторов постоянно и равно $U = 1,5$ В. Сопротивления резисторов, включенных во внешний участок цепи, $R_1 = R_2 = R_3 = R = 15$ Ом, а сопротивления резисторов r , ограничивающих ток аккумуляторов, составляют 5 Ом. Вычислите силы токов, протекающих через резисторы R_1 , R_2 , R_3 .

Задача 5. Импульсный нагреватель

Через находящуюся в вакууме нихромовую проволоку пропустили прямоугольный импульс тока напряжением U_0 и длительностью $\tau = 1,0$ мс (рис. 14), в результате чего проволока нагрелась и ее сопротивление возросло на 1%. Определите напряжение U_0 импульса. Сопротивление проволоки $R = 1,0$ Ом, ее масса $m = 1,0$ г, удельная теплоемкость $c = 460$ Дж/(кг·°C), температурный коэффициент сопротивления $\alpha = 8 \cdot 10^{-5} (\text{°C})^{-1}$.

Примечание. Изменение сопротивления R проволоки, вызванное ее нагревом на Δt , можно определить по формуле $\Delta R = R\alpha\Delta t$.

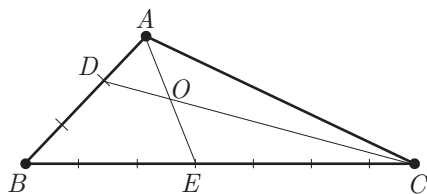


Рис. 12

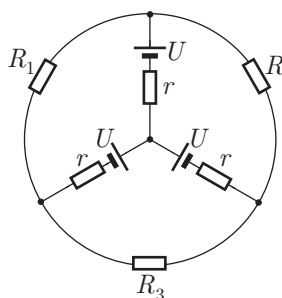


Рис. 13

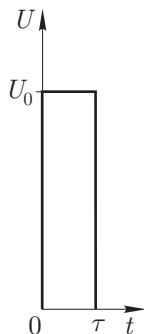


Рис. 14

11 класс

Задача 1. Путь материальной точки

Небольшой груз, закрепленный на конце легкой нерастяжимой нити называется математическим маятником. Грузу сообщили скорость $v_0 = 3$ см/с, в результате чего маятник стал совершать малые колебания. Определите путь, пройденный грузом за время $\tau = 2$ мин.

Задача 2. Старый снимок

В архиве Д. Глейзера, изобретателя пузырьковой камеры, нашли фотопластинку, запечатлевшую столкновение двух протонов. От времени эмульсия потемнела, и след покоившегося протона невозможно было разглядеть (рис. 15). Под каким углом β к вектору скорости бомбардирующего протона полетел покоившийся протон, если налетевший протон отклонился от первоначального направления на угол $\alpha = 17^\circ$?



Рис. 15

Задача 3. Воздушный океан

Какую глубину H имел бы воздушный океан Земли (рис. 16), если бы плотность воздуха не изменялась с высотой, а всюду была такой же как у поверхности? Молярная масса воздуха $\mu = 29$ г/моль, его средняя температура $t \approx 0^\circ\text{C}$, универсальная газовая постоянная $R = 8,31$ Дж/(моль·К), ускорение свободного падения $g = 9,8$ м/с².



Рис. 16

Задача 4. Тепловая машина

На pT -диаграмме (рис. 17) показан цикл тепловой машины, у которой рабочим телом является идеальный газ. Расставьте участки AB , BC , CD , DA в порядке возрастания абсолютных величин совершаемых на них работ.

Задача 5. Минимальная и максимальная мощности

Для электрической цепи (рис. 18) определите, при каком значении сопротивления резистора R_2 , которое можно изменять от 0 до ∞ , мощность, выделяющаяся на резисторе R_N , минимальна. Чему она равна? Сопротивления резисторов R_1 и R_N , ЭДС \mathcal{E}_1 и \mathcal{E}_2 , считать известными, причем $\mathcal{E}_1 < \mathcal{E}_2$. При каком значении R_2 мощность, выделяющаяся на R_N , максимальна? Чему она равна?

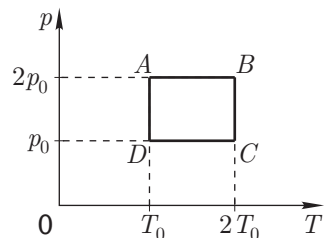


Рис. 17

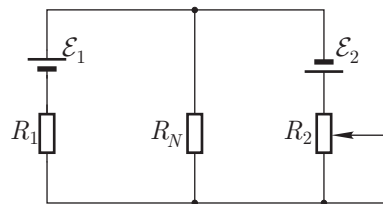


Рис. 18

Возможные решения

К решениям прилагаются рекомендуемые разбалловки. В случае необходимости проверяющие могут их изменить. Каждая задача оценивается из 10 баллов. Любое правильное решение заслуживает максимальной оценки. При отсутствии правильного окончательного ответа оцениваются фрагменты решения.

8 класс

Задача 1. Кто скорее?

Пусть в момент старта катеров расстояние от них до плота было L . В системе отсчета, связанной с плотом (движущейся со скоростью воды в реке), скорость v_0 катеров одинакова, так как одинаковы сами катера и их двигатели работают на полную мощность. Следовательно, оба катера подплывут к плоту одновременно.

Можно рассуждать иначе. Предположим, что скорость воды в реке равна u . Катер m догонит плот за время

$$t_m = \frac{L}{(v_0 + u) - u} = \frac{L}{v_0},$$

а катеру n потребуется время

$$t_n = \frac{L}{(v_0 - u) + u} = \frac{L}{v_0}.$$

Вновь получилось: $t_m = t_n$.

Разбалловка

Нахождение t_m	4
Нахождение t_n	4
Ответ	2

Задача 2. Шайба в мерном цилиндре.

Допустим, что основание шайбы опустилось ниже исходного уровня воды на расстояние x . Вытесненный этой частью шайбы объем жидкости ($V_x = sx$) поднимется над исходным уровнем на высоту

$$h = \frac{V_x}{S - s} = \frac{sx}{S - s}. \tag{1}$$

По закону Архимеда шайба будет плавать, если

$$(\rho s H)g = \rho_0 s(x + h)g. \tag{2}$$

Решая систему уравнений(1) и(2) получим:

$$x = H \frac{\rho}{\rho_0} \left(1 - \frac{s}{S}\right) = 32 \text{ мм.}$$

Разбалловка

Выражение для h 3
 Закон Архимеда 3
 Ответ в общем виде 2
 Численный ответ 2

Задача 3. Композитный стержень

Средняя удельная теплоемкость стержня

$$\langle c \rangle = \frac{C}{M}, \quad (3)$$

где C — теплоемкость всего стержня, а M — его масса. Пусть L и S — длина и площадь поперечного сечения каждого куска стержня. Тогда теплоемкость всего композитного стержня

$$C = c_1(\rho_1 SL) + c_2(\rho_2 SL) + c_3(\rho_3 SL) = (c_1\rho_1 + c_2\rho_2 + c_3\rho_3)SL. \quad (4)$$

Масса композитного стержня

$$M = (\rho_1 SL) + (\rho_2 SL) + (\rho_3 SL) = (\rho_1 + \rho_2 + \rho_3)SL. \quad (5)$$

После подстановки(4) и(5) в(3) получим

$$\langle c \rangle = \frac{C}{M} = \frac{(c_1\rho_1 + c_2\rho_2 + c_3\rho_3)SL}{(\rho_1 + \rho_2 + \rho_3)SL} = \frac{c_1\rho_1 + c_2\rho_2 + c_3\rho_3}{\rho_1 + \rho_2 + \rho_3} \approx 450 \text{ Дж/(кг} \cdot \text{°C)}.$$

Разбалловка

Выражение для $\langle c \rangle$ (формула(3)) 1
 Выражение для C 3
 Выражение для M 2
 Ответ в общем виде 2
 Численный ответ 2

Задача 4. Кирпичная конструкция

Пусть F — сила тяжести, действующая на один кирпич. Сила F_1 , с которой левая часть кирпичной конструкции действует на землю, складывается из половины силы тяжести, действующей на три верхних кирпича и силы тяжести двух нижних кирпичей:

$$F_1 = \frac{3}{2}F + 2F = \frac{7}{2}F.$$

Пусть b — длина самого короткого ребра кирпича. Тогда площадь основания левой опоры $S_1 = 4b^2$, а давление

$$p_1 = \frac{F_1}{S_1} = \frac{7F}{8b^2}.$$

Аналогичным образом, для правой части кирпичной конструкции найдем:

$$F_2 = \frac{3}{2}F + F = \frac{5}{2}F, \quad S_2 = 2b^2, \quad p_2 = \frac{F_2}{S_2} = \frac{5F}{4b^2}.$$

Искомое отношение давлений $p_1/p_2 = 0,7$.

Разбалловка

Выражение для F_1 2
 Выражение для S_1 1
 Выражение для p_1 1
 Выражение для F_2 2
 Выражение для S_2 1
 Выражение для p_2 1
 Ответ 2

9 класс

Задача 1. Полет спутника

Вокруг Земли спутник летит с первой космической скоростью $v_1 \approx 8 \text{ км/с}$, все время «падаая» на ее поверхность. За малый промежуток времени $\tau = 20 \text{ с}$ его вертикальное смещение составит $h = g\tau^2/2 \approx 2000 \text{ м}$.

Этот же результат получается, если определить расстояние h из геометрических соображений(рис. 19), принимая во внимание, что за время τ спутник пролетит вдоль поверхности Земли расстояние $L \approx v_0\tau$. Поскольку

$$R^2 - (R - h)^2 = L^2,$$

из этого уравнения находим $h \approx L^2/2R \approx 2 \text{ км}$. После раскрытия скобок мы пренебрегли членом h^2 по сравнению со слагаемыми L^2 и $2Rh$.

Разбалловка

На усмотрение проверяющих.

Задача 2. «Улитка» сил

Заметим, что сумма каждой из 6 пар противоположно направленных сил равна 180 Н, а сами эти силы, расположены симметрично относительно оси AA_1 (рис. 20). Следовательно, равнодействующая направлена вдоль оси AA_1 ,

и искомый угол $\alpha = 75^\circ$. Пары сил (\vec{F}_1, \vec{F}_4) , (\vec{F}_2, \vec{F}_5) , (\vec{F}_3, \vec{F}_6) перпендикулярны, поэтому их сумма равна $180\sqrt{2}$ Н ≈ 255 Н. Суммирование трех получившихся сил дает $F \approx 697$ Н. Отсюда находим ускорение материальной точки: $a = F/m \approx 5$ м/с².

Разбалловка

Нахождение α 3
 Нахождение F 5
 Численное значение a 2

Задача 3. Леопольд и мыши

За искомое время t кот проедет расстояние $L_1 = v_1 t$, а мыши $L_2 = v_2 t$. Из условия задачи ясно, что отрезки L , L_1 и L_2 образуют прямоугольный треугольник. По теореме Пифагора

$$L^2 = L_2^2 - L_1^2 = (v_2^2 - v_1^2)t^2.$$

Отсюда находим искомое время

$$t = \frac{L}{\sqrt{v_2^2 - v_1^2}} = 72 \text{ с.}$$

Разбалловка

Выражение для L_1 1
 Выражение для L_2 1
 Применение теоремы Пифагора 4
 Ответ в общем виде 2
 Численный ответ 2

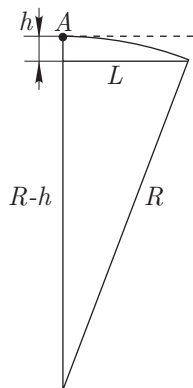


Рис. 19

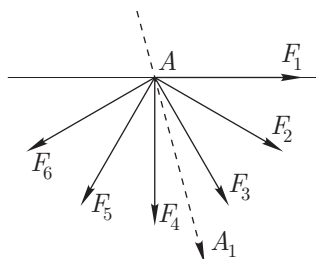


Рис. 20

Задача 4. Изогнутая стрелка

Согласно схеме, представленной в условии, показания вольтметров должны удовлетворять равенствам:

$$U_1 = U_2 + U_3, \tag{6}$$

$$U_3 = U_4 + U_5. \tag{7}$$

Подстановка числовых данных свидетельствует о том, что равенство(6) не выполняется. Следовательно, неисправен либо вольтметр V_1 , либо вольтметр V_2 . Для уточнения, у какого из этих двух вольтметров согнута стрелка, воспользуемся еще одним равенством:

$$I_2 = I_3 + I_4, \tag{8}$$

$$\frac{U_2}{R} = \frac{U_3}{R} + \frac{U_4}{R}, \tag{9}$$

где I_2 , I_3 и I_4 — токи, текущие через вольтметры V_2 , V_3 и V_4 , R — сопротивление каждого из вольтметров. Из(9) следует, что

$$U_2 = U_3 + U_4. \tag{10}$$

Подстановка числовых данных в равенство(10) показывает, что оно нарушается, следовательно, неисправен вольтметр V_2 . Из(9) и(10) находим напряжение на этом вольтметре: $U_2 = 3$ В.

Разбалловка

Формула (3) 1
 Формула (7) 1
 Формула (9) 2
 Формула (10) 3
 Правильное указание неисправного вольтметра 1
 Численный ответ 2

10 класс

Задача 1. Патрульный катер

Предположим, что выше по течению на расстоянии L от плота стоит еще один (вспомогательный) патрульный катер. Предположим далее, что оба катера одновременно стартовали по направлению к «подозрительным» туристам и двигатели катеров работали на полную мощность. Если перейти в систему отсчета, связанную с плотом, сразу станет ясно, что оба катера достигнут его одновременно и далее, после разворота основного катера, вместе поплывут к месту стоянки последнего. Поскольку время плавания обоих катеров одинаковое,

определим его для вспомогательного катера:
 $\tau = 2L/v$. Это и есть искомое время.

Другое решение. Задачу можно решить, не вводя вспомогательный катер. Пусть u — скорость течения реки, тогда скорость катера относительно воды $v_0 = v - u$. Время движения катера до встречи с плотом

$$\tau_1 = \frac{L}{(v_0 - u) + u} = \frac{L}{v_0},$$

а время возвращения в засаду

$$\tau_2 = \frac{(v_0 - u)\tau_1}{v_0 + u}.$$

Полное время движения

$$\tau = \tau_1 + \tau_2 = \tau_1 \frac{2v_0}{v_0 + u} = \frac{2L}{v}.$$

Разбалловка

Выражение для скорости катера относительно воды..... 1
 Выражение для τ_1 3
 Выражение для τ_2 4
 Ответ..... 2

Задача 2. Ускорение тележки

Пусть M — масса тележки, \vec{T}_1 и \vec{T}_2 — силы натяжения нити на горизонтальном и вертикальном участках, причем $T_1 = T_2 = T$. В первом случае второй закон Ньютона для тележки и груза имеет вид:

$$Ma_1 = T; \quad ma_1 = mg - T.$$

Преобразуем эту систему к виду:

$$Ma_1 = m(g - a_1). \tag{11}$$

Аналогичное выражение запишем для второго случая:

$$Ma_2 = 2m(g - a_2). \tag{12}$$

Поделив почленно(3) на(7), получим:

$$\frac{a_1}{a_2} = \frac{g - a_1}{2(g - a_2)}, \quad \text{откуда} \quad a_2 = \frac{2a_1}{1 + a_1/g}.$$

Разбалловка

Формула(3)..... 2
 Формула(7)..... 2
 Ответ..... 6

Задача 3. Равновесие треугольника

Если подобрать массу груза m_B так, чтобы центр масс грузов m_A и m_B оказался в точке D , то неизвестную массу m_B можно найти из правила моментов:

$$m_A \cdot AD = m_B \cdot DB.$$

Из этого соотношения находим $m_B = m_A/2 = 20$ г. Аналогичным образом, учитывая, что центр масс грузов m_C и m_B должен находиться в точке E , можно подобрать массу груза m_C :

$$m_B \cdot BE = m_C \cdot EC.$$

Из этого соотношения находим $m_C = \frac{3}{4}m_B = \frac{3}{8}m_A = 15$ г. При таких значениях масс грузов центр масс системы окажется в точке O . Масса всей конструкции $M = 75$ г.

Разбалловка

Нахождение m_B 4
 Нахождение m_C 4
 Численный ответ..... 2

Задача 4. Токи в кольце

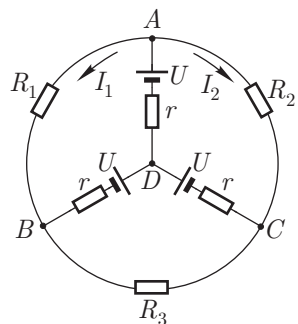


Рис. 21

Из симметрии схемы относительно участка цепи AD(рис. 21) следует:

- силы токов I_1 и I_2 на участках цепи AB и AC одинаковы, а сами токи направлены от узла A к узлам B и C ; по этой же причине $I_1 = I_{BD}$, $I_2 = I_{CD}$;

- ток через резистор R_3 не течет, то есть $I_3 = 0$.

Сила тока $I_{AD} = I_1 + I_2$. Совершим обход контура ABD против часовой стрелки. В этом случае сумма всех напряжений в данном контуре будет равна нулю:

$$2U - I_1 r - (I_1 + I_2)r - I_1 R = 0. \quad (13)$$

Следовательно,

$$I_1 = \frac{2U}{3r + R} = 0,1 \text{ A} = I_2.$$

Разбалловка

Утверждение $I_3 = 0$ с обоснованием.....	2
Утверждение $I_1 = I_2$ с обоснованием.....	2
Утверждение $I_{AD} = I_1 + I_2$ с обоснованием.....	2
Формула(13).....	2
Численный ответ.....	2

Задача 5. Импульсный нагреватель

При протекании по проволоке импульса тока длительностью τ в ней выделится в виде теплоты энергия

$$Q_\tau = \frac{U_0^2}{R} \tau. \quad (14)$$

Количество теплоты, пошедшее на нагревание проволоки

$$Q_m = cm\Delta t, \quad (15)$$

где Δt найдем из формулы, данной в примечании:

$$\Delta t = \frac{1}{\alpha} \frac{\Delta R}{R}. \quad (16)$$

В силу закона сохранения энергии $Q_\tau = Q_m$, откуда

$$U_0 = \sqrt{\frac{cmR}{\alpha\tau} \left(\frac{\Delta R}{R} \right)} \approx 240 \text{ В}.$$

Разбалловка

Формула(14).....	2
Формула(15).....	2
Формула(16).....	1
Ответ в общем виде.....	3
Численный ответ.....	2

Задача 1. Путь материальной точки

Найдем путь S , пройденный грузом за время τ много большее периода колебаний T :

$$S = 4NA, \quad (17)$$

где A — амплитуда колебаний, N — число колебаний, совершенных за время τ , причем

$$N = \frac{\tau}{T}. \quad (18)$$

Амплитуда колебаний связана с максимальной скоростью груза соотношением:

$$v_0 = \omega A = \frac{2\pi}{T} A. \quad (19)$$

Окончательно получим:

$$S = \frac{2}{\pi} v_0 \tau \approx 2,3 \text{ м.}$$

Разбалловка

Формула(17) 2
 Формула(18) 1
 Формула(19) 3
 Ответ в общем виде 2
 Численный ответ 2

Задача 2. Старый снимок

Пусть \vec{p}_0 — импульс, налетающего протона, \vec{p}_1 — его импульс после столкновения с покоящимся протоном, \vec{p}_2 — импульс протона-мишени после столкновения. Запишем законы сохранения энергии и импульса для этих протонов:

$$\vec{p}_0 = \vec{p}_1 + \vec{p}_2, \quad (20)$$

$$\frac{p_0^2}{2m} = \frac{p_1^2}{2m} + \frac{p_2^2}{2m}, \quad (21)$$

где m — масса протона. Возведем(20) в квадрат:

$$p_0^2 = p_1^2 + p_2^2 + 2(\vec{p}_1, \vec{p}_2). \quad (22)$$

Сравнивая(21) с(22), замечаем, что эти два равенства совместны, если $(\vec{p}_1, \vec{p}_2) = 0$, то есть протоны после столкновения разлетаются под прямым углом. Следовательно, $\beta = 90^\circ - \alpha = 73^\circ$.

Разбалловка

Закон сохранения импульса (формула(20)) 2

Закон сохранения энергии (формула(21)) 2
 Формула(22) 2
 Ответ в общем виде 2
 Численный ответ 2

Задача 3. Воздушный океан

Давление у поверхности Земли:

$$p = \frac{\rho}{\mu} RT. \quad (23)$$

Гидростатическое давление на дне воздушного океана

$$p = \rho gh. \quad (24)$$

Из (23) и (24) находим

$$h = \frac{RT}{\mu g} \approx 8 \text{ км.}$$

Разбалловка

Формула(23) 3
 Формула(24) 3
 Ответ в общем виде 2
 Численный ответ 2

Задача 4. Тепловая машина

Изобразим цикл $ABCD$ на pV плоскости(рис. 22). Пусть $V_A = V_0$. Тогда $V_B = 2V_0$, $V_C = 4V_0$, $V_D = 2V_0$. Работа, совершаемая газом на каждом из участков цикла, численно равна площади под соответствующим графиком. Сравнивая эти площади, получим:

$$A_{BC} > A_{DC} = A_{AB} > A_{AD}. \quad (25)$$

Разбалловка

Координаты точек A, B, C и D на pV -диаграмме цикла 4
 Три верных знака отношения в ответе(25) 6

Задача 5. Минимальная и максимальная мощности

Предположим, что минимальная мощность P_{\min} , выделяющаяся на резисторе R_N , равна нулю. Это возможно, когда через резистор R_N ток не течет, то есть

$$I_1 = \frac{\mathcal{E}_1}{R_1} = I_2 = \frac{\mathcal{E}_2}{R_2}. \quad (26)$$

Отсюда

$$R_2 = R_1 \frac{\mathcal{E}_2}{\mathcal{E}_1}. \quad (27)$$

Максимальная мощность будет выделяться на резисторе R_N тогда, когда $R_2 = 0$. В этом случае

$$P_{\max} = \frac{\mathcal{E}_2^2}{R_N}.$$

Разбалловка

Нахождение P_{\min}	1
Формула(26)	2
Формула(27)	2
Нахождение R_2 , при котором мощность максимальна	2
Нахождение P_{\max}	3

Для заметок

Планета Физтех

Вообще-то планет с таким названием несколько. Одна — малая планета (астероид) «Физтех» — находится между орбитами Марса и Юпитера, имеет регистрационный номер 4139, открыта в ноябре 1975 года Крымской астрофизической обсерваторией и получила свое название в 1996 году, в честь 50-летия системы Физтеха. Вторая планета Физтех — обитаемая — населена выпускниками института. За полвека численность популяции физтехов на этой планете перевалила за 20000, более 50 из них стали членами Академии наук, более 2500 — докторами наук. Раньше, лет 15 назад, физтехи встречались почти исключительно в СССР. Теперь они всюду — от Австралии и Японии до Бостона и Долгопрудного. Город Долгопрудный — Московская область, Россия — по праву провозглашен столицей этой планеты. Третья планета Физтех — комплекс зданий Московского физико-технического института (государственного университета). Слово «университет», добавленное в скобках к названию, отражает современный статус учебного заведения, аббревиатура которого — МФТИ — давно известна во всем мире. Попасть на первую планету «Физтех» довольно сложно. Сначала необходимо запустить ракету-носитель... Дальнейшее принципиально ясно. Для того, чтобы стать жителем второй планеты — а среди них академики и министры, поэты и актеры, режиссеры и писатели, военные, музыканты, бизнесмены (удачливые и не очень), — надо несколько лет проучиться в МФТИ. До третьей планеты вы сможете добраться и без ракеты-носителя: электричкой от Савеловского вокзала Москвы до платформы Новодачная или Долгопрудная, на автобусе 368 или маршрутном такси от метро «Речной вокзал» до станции Долгопрудная или почти до входа в институт на маршрутке №5 от метро «Алтуфьево». Как поступают в наш институт и что это может дать — читайте в нашем проспекте.

Потенциал

В марте 2005 года вышел второй номер научно-популярного физико-математического журнала «Потенциал» для старшеклассников и учителей. Журнал ежемесячный.

Учредителями журнала являются заочная физико-техническая школа при МФТИ и издательство «Азбука».

Рубрики журнала:



Планируемый тираж — 10000 экземпляров. Объем — 80 страниц. Приглашаются все желающие принять участие в работе журнала.

Координаты для связи с редакцией

г. Москва, ул. Рабочая 84
(095) 768 2548, 787 2494

fizteh@nm.ru
www.fizteh.nm.ru

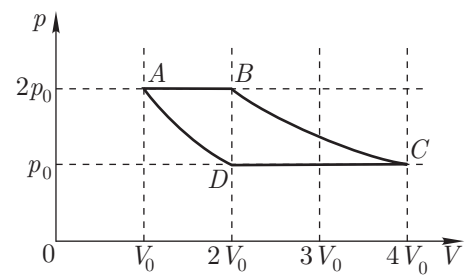


Рис. 22